

Lektion 12, Flervariabelanalys den 10 februari 2000

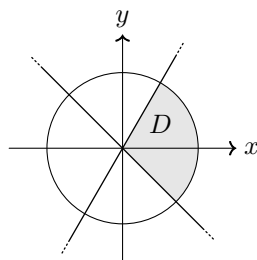
14.6.20 Bestäm volymen av området ovanför x, y -planet, under paraboloiden $z = 1 - x^2 - y^2$ och i kilen $-x \leq y \leq \sqrt{3}x$.

Paraboloiden är ovanför x, y -planet när

$$z = 1 - x^2 - y^2 \geq 0 \quad \Leftrightarrow \quad x^2 + y^2 \leq 1,$$

d.v.s. innanför enhetscirkeln.

De punkter som tillhör området har alltså x - och y -koordinat i snittet mellan enhetsdisken och kilen $-x \leq y \leq \sqrt{3}x$.



I z -led begränsas området av funktionsytorna $z = 0$ och $z = 1 - x^2 - y^2$. Volymen ges av

$$V = \iint_D (1 - x^2 - y^2) dx dy.$$

I polära koordinater beskrivs området D i x, y -planet som

$$-\frac{1}{4}\pi \leq \theta \leq \arctan \sqrt{3} = \frac{1}{3}\pi, \quad 0 \leq r \leq 1,$$

och volymintegralen blir

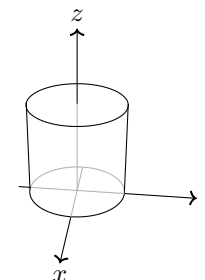
$$\begin{aligned} V &= \int_{-\pi/4}^{\pi/3} d\theta \int_0^1 (1 - r^2) r dr = \int_{-\pi/4}^{\pi/3} d\theta \left[\frac{1}{2}r^2 - \frac{1}{4}r^4 \right]_0^1 \\ &= \frac{1}{4} \int_{-\pi/4}^{\pi/3} d\theta = \frac{7}{48}\pi. \end{aligned}$$

14.6.24 Beräkna

$$\iiint_R (x^2 + y^2 + z^2) dx dy dz$$

där R är cylindern $0 \leq x^2 + y^2 \leq a^2$, $0 \leq z \leq h$.

Enligt den första olikheten $0 \leq x^2 + y^2 \leq a^2$ är cylindern parallell med z -axeln och med x - och y -koordinater innanför cirkeln med mittpunkt i origo och radi a . Den andra olikheten $0 \leq z \leq h$ begränsar cylindern i höjddled.



Eftersom området är rotationssymmetriskt kring z -axeln beskrivs det enklast med cylindriska koordinater

$$0 \leq z \leq h, \quad 0 \leq \theta < 2\pi, \quad 0 \leq r \leq a.$$

Integralen blir

$$\begin{aligned} \iiint_R (x^2 + y^2 + z^2) dx dy dz &= \{ \text{cylindriska koordinater} \} \\ &= \iiint_R (r^2 + z^2) r dr d\theta dz = \int_0^{2\pi} d\theta \int_0^h dz \int_0^a (r^2 + z^2) r dr \\ &= \int_0^{2\pi} d\theta \int_0^h dz \left[\frac{1}{4}r^4 + \frac{1}{2}z^2 r^2 \right]_0^a = \int_0^{2\pi} d\theta \int_0^h \left(\frac{1}{4}a^4 + \frac{1}{2}a^2 z^2 \right) dz \\ &= \int_0^{2\pi} d\theta \left[\frac{1}{4}a^4 z + \frac{1}{6}a^2 z^3 \right]_0^h = \int_0^{2\pi} \left(\frac{1}{4}a^4 h + \frac{1}{6}a^2 h^3 \right) d\theta \\ &= \frac{1}{6}\pi a^2 h (3a^2 + 2h^2). \end{aligned}$$

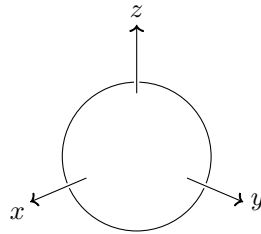
14.6.26 Bestäm

$$\iiint_B (x^2 + y^2 + z^2) dV$$

där B är klotet $x^2 + y^2 + z^2 \leq a^2$.

Eftersom klotet $x^2 + y^2 + z^2 \leq a^2$ är helt rotationsymmetriskt inför vi sfäriska koordinater. I dessa koordinater beskrivs klotet som

$$0 \leq \theta < 2\pi, \quad 0 \leq \varphi \leq \pi, \quad 0 \leq r \leq a.$$



Integralen blir

$$\begin{aligned} \iiint_B (x^2 + y^2 + z^2) dV &= \left\{ \begin{array}{l} x = r \sin \varphi \cos \theta \\ y = r \sin \varphi \sin \theta \\ z = r \cos \varphi \end{array} \right| dV = r^2 \sin \varphi dr d\varphi d\theta \\ &= \int_0^{2\pi} d\theta \int_0^\pi \sin \varphi d\varphi \int_0^a r^4 dr = 2\pi \cdot 2 \cdot \frac{1}{5} a^5 = \frac{4}{5} \pi a^5. \end{aligned}$$

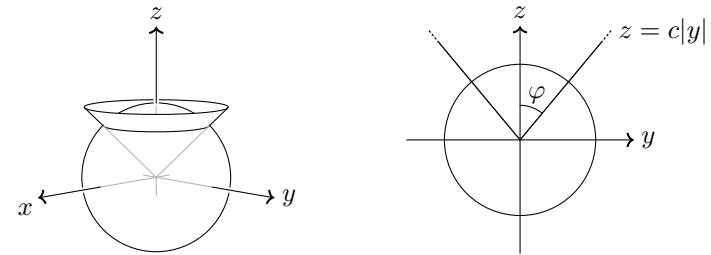
14.6.28 Beräkna

$$\iiint_R (x^2 + y^2) dV$$

där R är området ovanför konen $z = c\sqrt{x^2 + y^2}$ och innanför sfären $x^2 + y^2 + z^2 = a^2$.

Funktionsytan $z = c\sqrt{x^2 + y^2}$ är en kon med spets i origo och z -axeln som

symmetriaxel. Området R har alltså följande utseende.



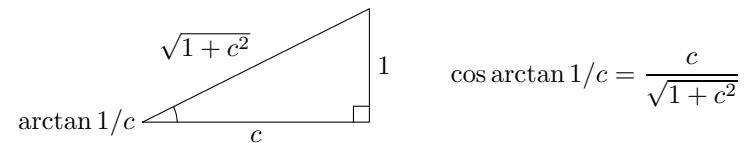
Vi beskriver området enklast med sfäriska koordinater

$$0 \leq \varphi \leq \arctan \frac{1}{c}, \quad 0 \leq \theta \leq 2\pi, \quad 0 \leq r \leq a.$$

Integralen blir

$$\begin{aligned} \iiint_V (x^2 + y^2) dV &= \{ \text{sfäriska koordinater} \} \\ &= \int_0^{2\pi} d\theta \int_0^{\arctan 1/c} \sin^3 \varphi d\varphi \int_0^a r^4 dr \\ &= \int_0^{2\pi} d\theta \int_0^{\arctan 1/c} (1 - \cos^2 \varphi) \sin \varphi d\varphi \int_0^a r^4 dr \\ &= \left[\theta \right]_0^{2\pi} \cdot \left[-\cos \varphi + \frac{1}{3} \cos^3 \varphi \right]_0^{\arctan 1/c} \cdot \left[\frac{1}{5} r^5 \right]_0^a \\ &= 2\pi \left(-\cos \arctan 1/c + \frac{1}{3} \cos^3 \arctan 1/c - (-1 + \frac{1}{3}) \right) \cdot \frac{1}{5} a^5 \end{aligned}$$

För att förenkla $\cos \arctan 1/c$ ritar vi en hjälptriangel.



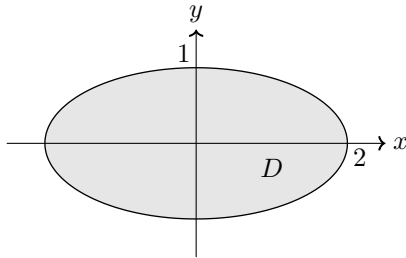
$$= \frac{2\pi a^5}{5} \left(-\frac{c}{\sqrt{1+c^2}} + \frac{\frac{1}{3}c^3}{(1+c^2)^{3/2}} + 2/3 \right).$$

14.7.2 Bestäm arean av ytan till planet $5z = 3x - 4y$ innanför den elliptiska cylindern $x^2 + 4y^2 = 4$.

Vi ska alltså bestämma arean av funktionsytan $z = \frac{3}{5}x - \frac{4}{5}y$ i området

$$x^2 + 4y^2 \leq 4 \quad \Leftrightarrow \quad \left(\frac{x}{2}\right)^2 + y^2 \leq 1.$$

Området består alltså av en ellips med mittpunkt i origo och halvaxlar 2 och 1.



För att beskriva området inför vi omskalade polära koordinater

$$\begin{aligned} x &= 2r \cos \theta, \\ y &= r \sin \theta, \end{aligned}$$

och området ges då av

$$0 \leq \theta < 2\pi, \quad 0 \leq r \leq 1.$$

Areaelementet $dx dy$ övergår till

$$\begin{aligned} dx dy &= \left| \det \frac{\partial(x, y)}{\partial(r, \theta)} \right| dr d\theta = \begin{vmatrix} \frac{\partial x}{\partial r} & \frac{\partial x}{\partial \theta} \\ \frac{\partial y}{\partial r} & \frac{\partial y}{\partial \theta} \end{vmatrix} dr d\theta \\ &= \begin{vmatrix} 2 \cos \theta & -2r \sin \theta \\ \sin \theta & r \cos \theta \end{vmatrix} dr d\theta = (2r \cos^2 \theta + 2r \sin^2 \theta) dr d\theta = 2r dr d\theta. \end{aligned}$$

Areaintegralen blir

$$\begin{aligned} \iint_D \sqrt{1 + \left(\frac{\partial z}{\partial x}\right)^2 + \left(\frac{\partial z}{\partial y}\right)^2} dx dy &= \iint_D \sqrt{1 + \left(\frac{3}{5}\right)^2 + \left(-\frac{4}{5}\right)^2} dx dy \\ &= \sqrt{2} \int_0^{2\pi} d\theta \int_0^1 2r dr = \sqrt{2} \cdot 2\pi \left[r^2 \right]_0^1 = 2\sqrt{2}\pi. \end{aligned}$$

14.7.4 Bestäm arean av halvellipsytan $z = 2\sqrt{1 - x^2 - y^2}$.

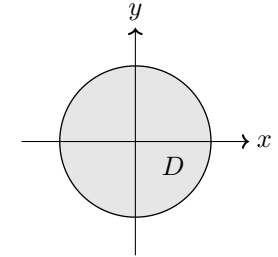
Funktionen har definitionsområdet

$$1 - x^2 - y^2 \geq 0 \quad \Leftrightarrow \quad x^2 + y^2 \leq 1,$$

d.v.s. enhetsdisken.

Integranden till areaintegralen är

$$\begin{aligned} &\sqrt{1 + \left(\frac{\partial z}{\partial x}\right)^2 + \left(\frac{\partial z}{\partial y}\right)^2} \\ &= \sqrt{1 + \left(\frac{2}{2\sqrt{1 - x^2 - y^2}} \cdot (-2x)\right)^2 + \left(\frac{2}{2\sqrt{1 - x^2 - y^2}} \cdot (-2y)\right)^2} \\ &= \sqrt{1 + \frac{4x^2 + 4y^2}{1 - x^2 - y^2}} = \sqrt{\frac{1 + 3x^2 + 3y^2}{1 - x^2 - y^2}}. \end{aligned}$$



”Den rikliga förekomsten av uttrycket $x^2 + y^2$ antyder att införandet av polära koordinater kan förenkla räknearbetet.” [Leo Ullemar, 1972]

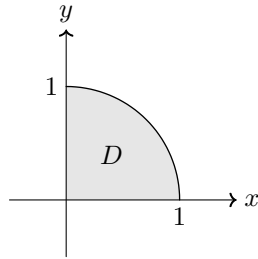
Areaintegralen blir

$$\begin{aligned} \iint_D \sqrt{\frac{1 + 3x^2 + 3y^2}{1 - x^2 - y^2}} dx dy &= \{ \text{polära koordinater} \} \\ &= \int_0^{2\pi} d\theta \int_0^1 \sqrt{\frac{1 + 3r^2}{1 - r^2}} r dr = \{ s = \sqrt{1 - r^2}; ds = \frac{-r}{\sqrt{1 - r^2}} dr \} \\ &= 2\pi \int_0^1 \sqrt{4 - 3s^2} ds = 4\pi \int_0^1 \sqrt{1 - \frac{3}{4}s^2} ds \\ &= \{ s = \frac{2}{\sqrt{3}} \sin \varphi; ds = \frac{2}{\sqrt{3}} \cos \varphi d\varphi \} \\ &= \frac{8\pi}{\sqrt{3}} \int_0^{\pi/3} |\cos \varphi| \cos \varphi d\varphi = \frac{8\pi}{\sqrt{3}} \left[\frac{1}{2}\varphi + \frac{1}{4} \sin 2\varphi \right]_0^{\pi/3} \\ &= \frac{8\pi}{\sqrt{3}} \left(\frac{\pi}{6} + \frac{\sqrt{3}}{8} \right) = \frac{4\pi^2}{3\sqrt{3}} + \pi. \end{aligned}$$

14.7.6 Bestäm arean av paraboloiden $z = 1 - x^2 - y^2$ i första oktanten.

Första oktanten definieras som $x, y, z \geq 0$. Den del av paraboloidens yta som tillhör första oktanten bestäms alltså av alla x och y s.a.

$$\begin{aligned} x, y \geq 0 \quad \text{och} \quad 1 - x^2 - y^2 \geq 0 \\ \Leftrightarrow \quad x, y \geq 0 \quad \text{och} \quad x^2 + y^2 \leq 1. \end{aligned}$$



Arean ges av

$$\begin{aligned} \iint_D \sqrt{1 + \left(\frac{\partial z}{\partial x}\right)^2 + \left(\frac{\partial z}{\partial y}\right)^2} dx dy &= \iint_D \sqrt{1 + (2x)^2 + (2y)^2} dx dy \\ &= \{ \text{polära koordinater} \} = \int_0^{\pi/2} d\theta \int_0^1 \sqrt{1 + 4r^2} r dr \\ &= \{ s = 1 + 4r^2; ds = 8r dr \} = \frac{1}{8} \int_0^{\pi/2} d\theta \int_1^5 \sqrt{s} ds \\ &= \frac{1}{8} \cdot \frac{1}{2} \pi \cdot \left[\frac{2}{3} s \sqrt{s} \right]_1^5 = \frac{1}{24} \pi (5\sqrt{5} - 1). \end{aligned}$$

14.7.8 Bestäm arean av ytan $z = \sqrt{x}$ ovanför området $0 \leq x \leq 1, 0 \leq y \leq \sqrt{x}$.

Funktionen $z = \sqrt{x}$ är alltid icke-negativ och befinner sig därför alltid ovanför x, y -planet.

Arean av funktionsytan inom området ges av

$$\begin{aligned} \iint_D \sqrt{1 + \left(\frac{\partial z}{\partial x}\right)^2 + \left(\frac{\partial z}{\partial y}\right)^2} dx dy &= \iint_D \sqrt{1 + \left(\frac{1}{2\sqrt{x}}\right)^2 + 0^2} dx dy \\ &= \int_0^1 dx \int_0^{\sqrt{x}} \sqrt{1 + \frac{1}{4x}} dy = \int_0^1 \sqrt{1 + \frac{1}{4x}} \sqrt{x} dx = \int_0^1 \sqrt{x + \frac{1}{4}} dx \\ &= \left[\frac{2}{3} \left(x + \frac{1}{4}\right)^{3/2} \right]_0^1 = \frac{2}{3} \left(\frac{5}{4}\right)^{3/2} - \frac{2}{3} \left(\frac{1}{4}\right)^{3/2} = \frac{5\sqrt{5} - 1}{12}. \end{aligned}$$